

Работа победителя муниципального этапа по истории кандидата на участие в региональном этапе ВсОШ

наименование муниципального образования	Поспелихинский район
наименование образовательной организации (полное название)	МКОУ "Поспелихинская СОШ №1"
предмет	история
класс	10
за какой класс принимал участие в муниципальном этапе	10
Ф.И.О участника	Рубанова Валерия Витальевна
Ф.И.О. учителя-наставника	Ильенко Наталья Игоревна
Ф.И.О ответственного лица (специалиста МОУО)	Будянская Татьяна Валерьевна
контактный телефон специалиста МОУО	+7 (385 56) 22423 или/и +7 9236548663

Дата проведения муниципального этапа ВсОШ по указанному предмету	14.11.2017
Итоговый балл	70
Ф.И.О. председателя жюри муниципального этапа	Слизова Алёна Сергеевна

**ВСЕРОССИЙСКАЯ ОЛИМПИАДА ШКОЛЬНИКОВ
ПО ИСТОРИИ. МУНИЦИПАЛЬНЫЙ ЭТАП.
10-11 КЛАСС.**

Шифр 00003

Задание 1. Прочитайте сообщение военного министра А.И. Татищева командующему 2-й армией фельдмаршалу П.Х Витгенштейну и определите, о каком событии идет речь, укажите кто был участником данного события.

«...поутру государь император извещен начальником штаба Гвардейского корпуса, что несколько рот лейб-гвардии Московского полка отказались от должной к Его Величеству присяги и, завлеченные буйством своих капитанов, овладевши знаменами, принесенными полку для присяги, изранили своего бригадного командира генерал-майора Шеншина и полкового командира генерал-майора Фредерикса, что толпа сия в величайшем неистовстве взяла направление к Исаакиевской площади. Увлекая силою встречавшихся офицеров, но другая часть полка осталась покорная и в порядке...»

- 1) М.А. Милорадович
- 2) С.И. Муравьев-Апостол
- 3) Д. Щепин-Ростовский
- 4) А.А Бестужев
- 5) М.П. Бестужев-Рюмин
- 6) П.И. Пестель
- 7) М.А. Бестужев

Ответ:

Название события: Восстание декабристов 1825г.
Участники (цифры): 256

Всего 4 б. 25

Задание 2. Соотнесите элементы правого и левого столбцов таблицы. В перечне справа есть лишняя характеристика.

2.1. (7 баллов)

	<i>Понятие</i>		<i>Определение</i>
А)	контрибуция	1.	насильственное переселение народа или народов с мест исконного их проживания
Б)	ратификация	2.	насильственное, чаще всего вооруженное вмешательство одного или нескольких государств во внутренние дела другого государства
В)	депортация	3.	принудительное, безвозмездное изъятие государством имущества частного лица
Г)	интервенция	4.	насильственное присоединение всей или части территории другого государства или народа
Д)	конфискация	5.	утверждение верховным органом государственной власти международного договора
Е)	аннексия	6.	перевод вооруженных сил государства или его частей с мирного положения на военное
Ж)	приватизация	7.	платежи, налагаемые на побежденное государство в пользу государства победителя
		8.	передача государственной собственности в руки частных лиц, акционерных обществ и др.

Ответ:

А	Б	В	Г	Д	Е	Ж
7+	5+	1+	2+	3+	4+	8+

2.2. Соотнесите фамилии исторических деятелей России и зарубежных стран, живших в одно время (7 баллов)

	Исторические деятели России		Исторические деятели зарубежных стран
А)	Иван Грозный	1.	Д. Вашингтон
Б)	А.Д. Меншиков	2.	Д. Бруно
В)	Ф.С. Конь	3.	Д. Дефо
Г)	М.Б. Шеин	4.	М. Фарадей
Д)	М.М. Сперанский	5.	Елизавета I
Е)	А.М. Горчаков	6.	Ф. Рузвельт
Ж)	Г.А. Потемкин	7.	Д. Гарибальди
		8.	Сигизмунд III Ваза

Ответ:

А	Б	В	Г	Д	Е	Ж
5+	3+ + 2	8+	1-	4-	7-	

Всего 14 б.

115

Задание 3. Заполните пробелы в тексте. Ответ оформите в виде перечня элементов под соответствующими номерами.

Вскоре ситуация еще более осложнилась: крестьянское недовольство захватило пролетариат, армию. В феврале- марте _____ (1) _____ года моряки крупнейшей военно-морской базы Балтийского флота, расположенной в городе-крепости _____ (2) _____, на о. Котлин выступили под лозунгами «_____ (3) _____!» и «_____ (4) _____!». После ложного сообщения о массовых расстрелах в городе _____ (5) _____ они взяли за оружие.

Руководство РСФСР было едино в стремлении локализовать и подавить выступление. Разногласия возникли только по поводу средств. _____ (6) _____ выступил за блокаду острова, _____ (7) _____ за немедленный штурм, пока не взломан лед Финского залива и не подошла англо- французская эскадра. Ленин поддержал _____ (7) _____.

Первый штурм оказался неудачен. Во втором штурме принимали участие делегаты _____ (8) _____ съезда РКП (б). _____ (9) _____ марта, в день подписания в Риге договора с _____ (10) _____, мятежная крепость пала.

Ответ:

№	Вставка
1	1920.
2	в Кронштадте. +
3	власть советами, а не партией -
4	Советы без коммунистов +
5	Петроград +
6	

7	
8	10. звезда +
9	18 марта +
10	

Всего 10 б. 5

Задание 4. По какому принципу образованы ряды? Что и почему выпадает из логического ряда (2 балла за каждое правильно выполненное задание)

4.1. Телеуты, буртасы, кумандинцы, теленгиты, телесы.

Выпадают буртасы, потому что это говорит на другом языке, а все остальные имеют общий язык +

4.2. Павловский медеплавильный завод, Сузунский медеплавильный завод, Нерчинский сереброплавильный завод, Локтевский сереброплавильный завод, Шульбинский медеплавильный завод

Выпадает Нерчинский сереброплавильный завод, т.к. находится не на Алтае. +

4.3. П.Ф. Сухов, Е.М. Мамонтов, М.И. Ворожцов, А.П. Кайгородов, И.Я. Третьяк.

Выпадает Кайгородов т.к. был за "Белли", а все остальные - красное +

Всего 6 б. _____

88

Задание 5. Изображения каких исторических деятелей представлены ниже? (3 балла за каждое правильно выполненное задание)


Укажите

- 1) их имя/фамилию
- 2) сферу их деятельности
- 3) примерное время их деятельности.



5.1.

- 1) Ярослав Мудрый. —
- 2) правитель всей Руси, князь Великий. —
- 3) 1019-1054гг. —



5.2.

- 1) Зоя Космодемьянская.
- 2) Красноармейец, Герой Советского Союза
- 3) 1940-е

Всего 6 б. 0

Задание 6. Применительно к каждой представленной ниже картине укажите

1) ее название,

2) фамилию художника,

3) время создания (с точностью до половины столетия).

6.1.



- 1) Переход Суворова с/з Альп⁺
- 2) Суриков⁺
- 3) 1898⁺

6.2.



- 1) _____
- 2) _____
- 3) _____

Всего 6 б. 3

Задание 7. Применительно к каждому изображенному ниже памятнику укажите

- 1) его название,
- 2) место расположения (город),
- 3) фамилию скульптора,
- 4) время создания (с точностью до половины столетия) постройки памятника.



7.1.

- 1) Анна Ивановна с арагонцами †
- 2) Москва (Посударств. русский музей) —
- 3) Растрелли †
- 4) 1741г. †



7.2.

- 1) Братья Микhey и Логоварский †
- 2) Москва †
- 3) Иван Мартос †
- 4) 1812-1815г. †

Всего 8 б. 7

Задание 8. Рассмотрите приведенные ниже изображения и выполните задания.

Ответ внесите в таблицу.

8.1. Соотнесите представленные эмблемы киностудий с художественными фильмами, снятыми на этих киностудиях.

8.2. Римскими цифрами обозначьте место на карте, где располагались данные киностудии. Ответ впишите в третью строку таблицы.

Эмблемы киностудий



А)



Б)



В)



Г)



Ж)




Д)



З)




Е)



И)

Кинофильмы



1)



2)




3)



4)



5)



6)



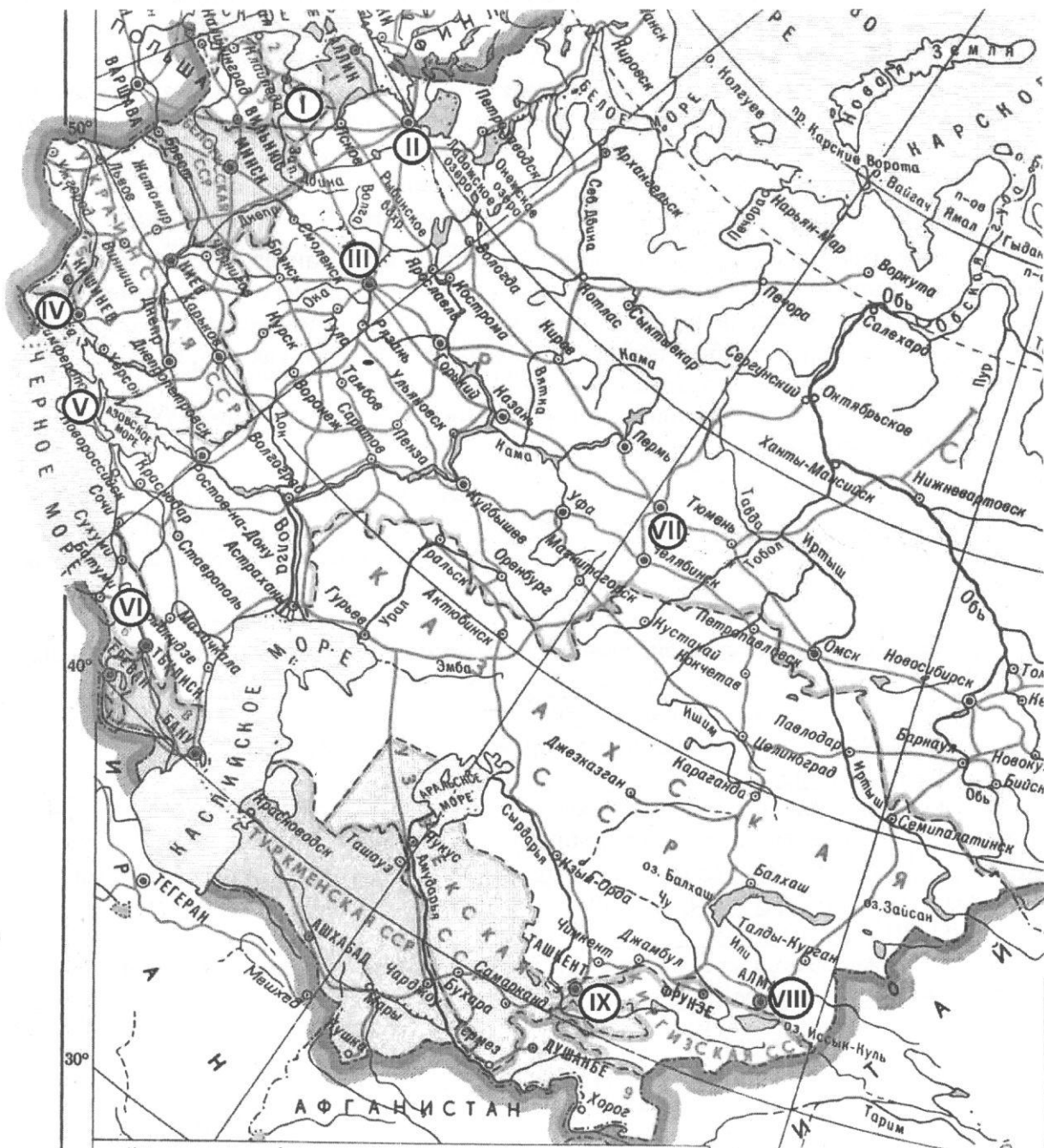
7)



8)



9)



Киностудия	А	Б	В	Г	Д	Е	Ж	З	И
Афиша	9-	1-	8.3	8-	2	5.6	8.5	9-	4.2
Место на карте	IV+	IX+	III-	II+	VIII+	V+	VI+	V+	I+

Всего 18 б. 11

Задание 9. Прочитайте текст и ответьте на вопросы (12 баллов).
Объявляется во всенародное известие

Жалуем сим имянным указом с монаршим и отеческим нашим милосердием всех, находившихся прежде в крестьянстве и в подданстве помещиков, быть верноподданными рабами собственной нашей короне; и награждаем древним крестом и молитвою, головами и бородами, вольностию и свободою и вечно казаками, не требуя рекрутских наборов, подушных и протчих денежных податей, владением землями, лесными, сенокосными угодьями и рыбными ловлями, и соляными озёрами без покупки и без оброку; и овобождает всех от прежде чинимых от злодеев дворян и градских мздоимцов-судей крестьяном и всему народу налагаемых податей и отягощений. И желаем вам спасения душ и спокойной в свете жизни, для которой мы вкусили и претерпели от прописанных злодеев-дворян странствие и немалыя бедствия.

А как ныне имя наше властною всевышней десницы в России процветает, того ради повелеваем сим нашим имянным указом: кои прежде были дворяне в своих поместьях и водчинах, — оных противников нашей власти и возмутителей империи и разорителей крестьян, ловить, казнить и вешать, и поступать равным образом так, как они, не имея в себе христианства, чинили с вами, крестьянами.

По истреблении которых противников и злодеев-дворян, всякой может возчувствовать тишину и спокойную жизнь, коя до века продолжатца будет.

Божию милостию, мы, Пётр Третий,
император и самодержец Всероссийский и протчая,
и протчая, и протчая.

1. К какому периоду истории нашей страны относится данный указ? (2 балла)

Просвещенный +

2. Когда был подписан указ? (2 балла) 1769 —

3. Как называлась внутренняя политика, проводимая правительством России в этот период? (2 балла) просвещенный абсолютизм +

4. Как звали самозванца, выдававшего себя за Петра III? (1 балла) Емельян Пугачев +

5. Назовите обстоятельства, которые привели к подписанию данного указа (3 балла)
Емельян Пугачев, под видом умершего Петра III аннулировал различные указы и крестами призывал участие в восстании.

6. Какое из пожалований крестьянству в указе, является основополагающим? (2 б)

Отмена креп. права, т.е. дарование свободы от помещиков и присяга на верность императору. +

Всего 12 б. 8

10. ТВОРЧЕСКОЕ ЗАДАНИЕ (эссе или развернутый ответ, 25 баллов).

10.1 Примерные Темы эссе:

1. «Внешняя политика князя Святослава Игоревича явилась закономерным продолжением усилий, предпринятых еще Олегом и особенно Игорем по закреплению позиций Руси»

А.Н. Сахаров

2. «Дед, дядя и отец Дмитрия [Донского] в тишине подготовили богатые средства к борьбе открытой, решительной...».

С.М. Соловьев

- ? 3. «Смута не изменила общественного строя Москвы, но она переместила в нем центр тяжести с боярства на дворянство. Произошла смена господствующего класса

С.Ф. Платонов

- ? 4. «... Нам остается ответить на вопрос, волновавший как современников, так и потомков: почему намерение «верховников» ограничить самодержавие потерпело неудачу, почему недарованные кондиции стали кульминацией в победе самодержавия?»

Н.И. Павленко

5. «Я надеюсь, господа, что при рассмотрении проектов, представленных в Государственный совет, вы убедились, что все, что можно было сделать для ограждения выгод помещиков»

Александр II

6. «... разверстка, замененная налогом, означает не только новую форму продовольственной политики, но и открывает совершенно новую хозяйственную полосу вообще»

С.М. Киров

7. «Следующий этап то ли реформирования экономики, то ли развитие экономического кризиса в нашей стране получил название перестройка»

А.В. Латенко

10.2. Развернутый письменный ответ

- 1. Роль Ивана Калиты в образовании единого русского государства
- 2. Российская империя: истоки и последствия
- 3. Влияние крестьянской реформы 1861 г. на экономическое развитие России
- 4. Влияние Великой Отечественной войны на усиление культа личности И.В. Сталина

10.2. Роль Ивана Калиты в образовании единого русского государства. 158.

Иван Калита (II) (1325-1340г.) с 1328г. получил ярлык на великое княжение. Своё прозвище «Калита», по данным разных источников, получил из-за своей кевиданной до этого щедрости, которую проявил в отдалённых землях Орды и раздавал лично крестьянам. Также же, есть мнение, что прозвище «Калита» он получил из-за сумы, которую носил у

кию на поясе. По данным источников он был самым
богатым князем того времени.

Князь старался консолидировать дружественные отношения с Ордой,
проводил там месяцы, принимая участие в крательном
походе Мункош-Татар на Тверь, который был вызван восстанием
князей и убийством Чалхана. Результатом его походов
стало получение ярлыка на великое княжество в 1328.

С того времени, как правителем князем стал Кашита,
русские практически не знали ужаса разорения и последствий
набегов монголо-татар. Проводились им походы давали
возможность спокойно собирать земли вокруг Москвы, не
терпя разорения.

Таким же, и одной из заслуг князя можно отнести то,
что он добился права собирать дань самостоятельно, без
вмешательства татаро-монгол, что дало возможность
утрачивать часть дани и собирать внутри государства, т.е.
в княжестве, что было существенным плюсом во время сбора
земель.

Исходя из всего вышесказанного, можно сделать вывод, что Иван
Кашита проводил активную политику, направленную на
укрепление государства и объединение раздробленных земель.